

NEW

GEOGRAPHY EXAMINATION

கல்விப் பொதுத் தராதரப் பத்திர (உயர் தர) மாதிரி வினாத்தாள், 2020 ஓகஸ்ட்  
General Certificate of Education (Adv. Level) Model Paper, August 2020

புவியியல் II  
Geography II

22 T II

மூன்று மணித்தியாலம்  
Three hours

மேலதிக வாசிப்பு நேரம் - 10 நிமிடங்கள்  
Additional Reading Time - 10 minutes

வினாப் பத்திரத்தை வாசித்து வினாக்களைத் தெரிவு செய்வதற்கும், விடையெழுதும்போது முன்னுரிமை வழங்கும் வினாக்களை ஒழுங்கமைத்துக் கொள்வதற்கும் மேலதிக வாசிப்பு நேரத்தைப் பயன்படுத்துக.

ஆசிரியர்: திரு. ஏ. கஜன் B.A Tamil (R)

MODEL PAPER 3  
மாதிரி வினாத்தாள்



077 2400 707 / 076 8044 959

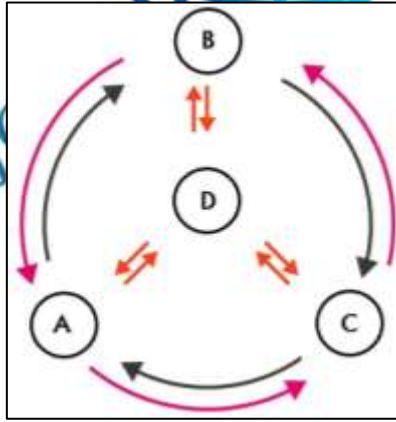
அறிவுறுத்தல்கள்:

சுட்டெண்:.....

\* ஒவ்வொரு பகுதியிலிருந்தும் குறைந்தபட்சம் இரண்டு வினாக்களையேனும் தெரிவுசெய்து, எல்லாமாக ஐந்து வினாக்களுக்கு மாத்திரம் விடை எழுதுக.

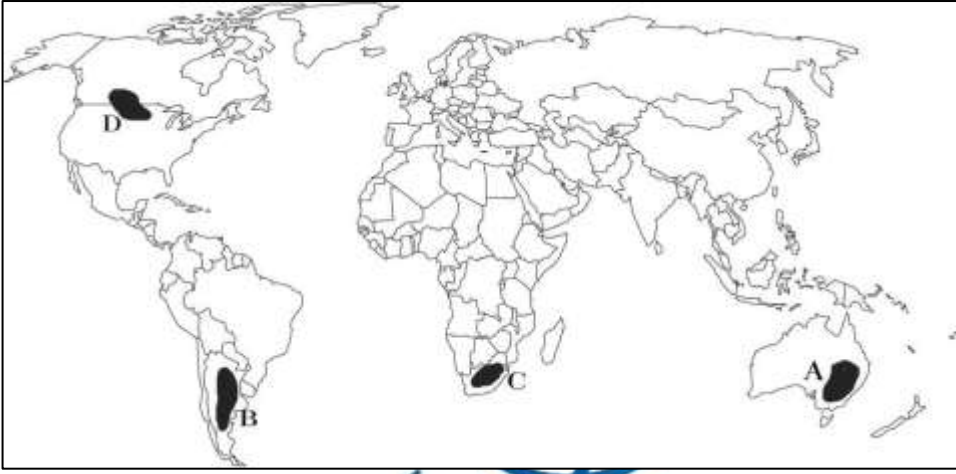
**பகுதி I - பௌதிகப் புவியியல்**

1. (i) 'தொகுதி' என்பதை வரையறை செய்வதுடன், அதன் பிரதான வகைகளையும் அடையாளம் செய்க. (03 புள்ளிகள்)
- (ii) கீழே வரிப்படத்தில் A, B, C மற்றும் D என அடையாளப்படுத்தப்பட்டுள்ள புவித் தொகுதியின் பிரதான உப தொகுதிகளைச் சரியாக இனங்கண்டு பெயரிடுக. (02 புள்ளிகள்)



- (iii) மேலே வினா (ii) இல் உம்மால் அடையாளம் காணப்பட்ட பிரதான உப தொகுதிகளில் யாதாயினும் ஒன்றைத் தெரிந்தெடுத்து, அதன் இயல்புகளையும் முக்கியத்துவத்தினையும் விவரிக்க. (06 புள்ளிகள்)
- (iv) தொகுதி D இல் அமைவுபெற்றுள்ள சூழ்நிலைத் தொகுதி ஒன்றில், உயிருள்ள கூறுகளுக்கும் - உயிரற்ற கூறுகளுக்கும் இடையிலான இடைத்தாக்கங்களை விரிவாக ஆராய்க. (09 புள்ளிகள்)
2. (i) மண் உருவாக்கத்தைக் கட்டுப்படுத்தும் மூன்று காரணிகளை அடையாளம் செய்க. (03 புள்ளிகள்)
- (ii) பாறைகளிலிருந்து மண் உருவாகும் செயல்முறையினை வரைபட ரீதியாக விளக்குக. (04 புள்ளிகள்)
- (iii) நாடுகளின் அபிவிருத்தியில் பாறைகள் பெறும் முக்கியத்துவத்தினைச் சுருக்கமாக விளக்குக. (05 புள்ளிகள்)
- (iv) பாறைகளின் அகழ்வு நடவடிக்கை காரணமாக ஏற்படுகின்ற, இரண்டு பௌதிகப் பாதிப்புக்களையும், இரண்டு மானிடப் பாதிப்புக்களையும் உதாரணம் தந்து பரிசீலிக்குக. (08 புள்ளிகள்)

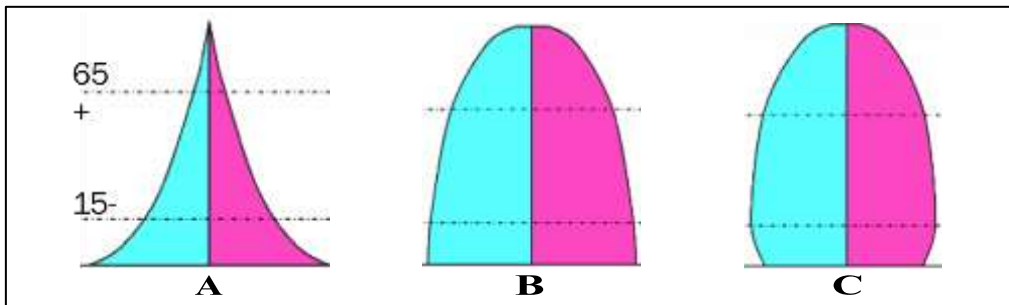
3. (i) வரண்ட பிரதேசங்களில் காற்றினால் மண் கொண்டு செல்லப்படும் மூன்று முறைகளைச் சுருக்கமாக விவரிக்கുക. (03 புள்ளிகள்)
- (ii) வரண்ட பிரதேசங்களில் காணப்படும் மூன்று தின்னல் நிலவுருவங்களை வரைபட உதவியுடன் ஆராய்க. (06 புள்ளிகள்)
- (iii) வரண்ட பிரதேசங்களில் காணப்படும் மூன்று படிதல் நிலவுருவங்களை வரைபட உதவியுடன் ஆராய்க. (06 புள்ளிகள்)
- (iv) “காலநிலைக் காரணிகளுக்கு ஏற்ப தாவரங்களும் விலங்குகளும் தம்மை இசைவாக்கப்படுத்திக் கொள்கின்றன” – உயர் அகலக்கோட்டுப் பிரதேசத்தில் உள்ள உயிர்த்திணுவையும், பாலநில உயிர்த்திணுவையும் அடிப்படையாகக் கொண்டு இக் கூற்றினை மதிப்பிடுக. (05 புள்ளிகள்)
4. (i) முனைவு தவிர்ந்த உலகின் பிரதான உயிரினக் கூட்டங்களை அடையாளம் செய்க. (03 புள்ளிகள்)
- (ii) கீழே தரப்பட்டுள்ள உலகப் புறவுருவப் படத்தில் A – D வரையான ஆங்கில எழுத்துக்களால், உலகின் பிரதான இடைவெப்ப உயிரினக் கூட்டமொன்று நிழற்றிக் காட்டப்பட்டுள்ளது. அவற்றின் பரம்பலைச் சரியாக இனங் கண்டு பெயரிடுக. (02 புள்ளிகள்)



- (iii) மேலே வினா (ii) இல் உம்மால் அடையாளங் காணப்பட்ட உயிரினக் கூட்டத்தைப் பின்வரும் தலைப்புக்களின் கீழ் விவரிக்கുക. (06 புள்ளிகள்)
- (அ) காலநிலைக் காரணிகள் (ஆ) இயற்கைத் தாவரம்
- (iv) உலகின் உயிர்த் திணுவுகள் எதிர்நோக்கிவரும் நான்கு பிரதான சவால்களைத் தகுந்த உதாரணங்களுடன் பரிசீலிக்கുക. (09 புள்ளிகள்)

### பகுதி II – மானிடப் புவியியல்

5. (i) கீழே A, B எனப் பெயரிடப்பட்டுள்ள சனத்தொகை நிலைமாறு காலகட்டத் தன்மைகளைப் பிரதிநிதித்துவப்படுத்தும் கட்டமைப்புக்களைச் சரியாக இனங்கண்டு பெயரிடுக. (02 புள்ளிகள்)



- (ii) A மற்றும் B ஆகிய கட்டமைப்புகளில் அவதானிக்கத்தக்க குடிப்புள்ளியியல் காரணிகள், இரு கட்டமைப்புகளிலும் வேறுபட்டு அமைவதற்குப் பொறுப்பான காரணிகளைச் சுருக்கமாக ஆராய்க. (04 புள்ளிகள்)

- (iii) கட்டமைப்பு C இல் உள்ளவாறு, சில அபிவிருத்தியடைந்த நாடுகளின் குடித்தொகைக் கூம்பின் வடிவம் நுனிப்பக்கமாக அகன்றுள்ளது. இதனால் குறித்த நாடுகள் எதிர்நோக்கும் **மூன்று** சவால்களை பொருத்தமான உதாரணங்கள் தந்து ஆராய்க. (06 புள்ளிகள்)
- (iv) இலங்கையின் சனத்தொகைப் பரம்பல் **மற்றும்** அடர்த்தி என்பவற்றில் இனங்காணத்தக்க முனைப்பான **நான்கு** பண்புகளைச் சுருக்கமாக ஆராய்க. (08 புள்ளிகள்)
6. (i) கிராமக் குடியிருப்பின் **இரண்டு** வகைகளை அடையாளம் செய்க. (02 புள்ளிகள்)
- (ii) பின்வரும் துறைகளின் கீழ் கிராமந்தரக் (கிராம நகர) குடியிருப்புகளை விவரிப்பதுடன், அதற்குப் பொறுப்பான காரணிகளையும் உதாரணம் தந்து விளக்குக.  
(அ) குடிப்புள்ளியியற் பண்புகள்  
(ஆ) தொழிற் கட்டமைப்பு  
(ஆ) நிலப் பயன்பாட்டுப் பாங்கு (06 புள்ளிகள்)
- (iii) இலங்கையின் தலைநகர்ப் பிரதேசத்தில் நகரக் குடியிருப்புகளின் செறிவிற்குப் பொறுப்பான **நான்கு** காரணிகளை உதாரணம் தந்து விளக்குக. (06 புள்ளிகள்)
- (iv) இலங்கையின் நகரமயமாக்கம் வளர்ச்சியடைந்த நாடுகளுடன் ஒப்பிடுமடத்து எவ்வாறான தன்மையைக் கொண்டுள்ளது என்பதனை விமர்சன ரீதியாக விளக்குக. (06 புள்ளிகள்)
7. (i) தரப்பட்டுள்ள இலங்கைப் படத்தில்,  
(அ) காரியம்  
(ஆ) இரத்தினக்கல்  
(இ) அப்பதைட்  
(ஈ) இரும்பு  
முதலான கனிமங்கள் பரந்துள்ள தலா **ஒவ்வொரு** இடங்களைச் **சரியாகக்** குறித்துப் பெயரிடுக. (02 புள்ளிகள்)
- (ii) இலங்கையில் காரியப் படிவுகளின் பரம்பல் **மற்றும்** பயன்பாடுகள் பற்றிச் சுருக்கமாக விளக்குக. (04 புள்ளிகள்)
- (iii) இலங்கையின் காரிய உற்பத்தி தொடர்பான அண்மைக்காலப் போக்குகளைச் சுருக்கமாக விவரிக்குக. (05 புள்ளிகள்)
- (iv) இலங்கையில் கனியங்கள் மூலம் பெறப்படுகின்ற,  
(அ) தொழில்வாய்ப்புகள்  
(ஆ) பிரதேச அபிவிருத்தி  
(அ) தேசிய வருமானத்தின் பங்களிப்பு என்ற அடிப்படையில் வகைக்கு **இரு** காரணிகளின் அடிப்படையில் விளக்குக. (09 புள்ளிகள்)
8. (i) 'பிராந்தியம்' எனும் பதத்தைத் தெளிவுறுத்துக. (02 புள்ளிகள்)
- (ii) பிராந்திய அமைப்புகளின் செயற்பாடுகள் கோளமயமாதலின் விருத்திக்குத் துணைபுரியுமாற்றலை உதாரணம் தந்து விவரிக்குக. (06 புள்ளிகள்)
- (iii) சர்வதேச ரீதியாகச் செயற்பட்டுவரும் **இரண்டு** சூழல் அமைப்புகளையும், இந்து சமுத்திரப் பிராந்தியத்தில் இயங்கிவரும் **இரண்டு** பிராந்திய அமைப்புகளையும் அடையாளம் செய்க. (04 புள்ளிகள்)
- (iv) மேலே **வினா (ii)** இல் உம்மால் அடையாளம் செய்யப்பட்ட சூழல் அமைப்பு ஒன்றினைத் தெரிந்தெடுத்து, அதனைப் பின்வரும் விடயத் தலைப்புக்களின் கீழ் விவரிக்குக.  
(அ) பின்னணி  
(ஆ) பணிகள்  
(இ) இலங்கையின் பங்களிப்பு (08 புள்ளிகள்)

\* \* \*

வினா இல:  
**07 (i)**

